

PENDIENTES EPV 2º ESO. CUADERNO DE TRABAJO.

Debes hacer los ejercicios, con la mayor limpieza y precisión posibles.

APELLIDOS, NOMBRE: _____ CURSO Y GRUPO: _____

REALIZAR LAS SIGUIENTES LÁMINAS Y REPASAR LOS CONTENIDOS QUE SE MUESTRAN EN LOS ENLACES:

1. Realiza un dibujo en perspectiva de tu calle en una lámina DIN A4
2. Dibuja un paisaje pintado con colores cálidos, en otra lámina DIN A4.
3. Elige cinco trazados del enlace de abajo: el erizo, el pez, el arco iris, la cara y el chico, y trabájalos siguiendo las instrucciones. Después colóralos.

Debes hacerlos en cinco láminas DIN A4 distintas.

<https://dibuixfm.files.wordpress.com/2016/03/passatecnics-1.pdf>

Pasatecnicos de Editorial Donostierra

.....

PARA HACER ESTOS EJERCICIOS REPASA ESTOS ENLACES:

- TEORÍA DEL COLOR
<http://es.slideshare.net/gbgplastica/el-color-1-eso>
<http://es.slideshare.net/luciaag/el-color-caracteristicas-generales>
- REALIZAR MEDIATRIZ Y BISECTRIZ DE UN ÁNGULO
<https://www.youtube.com/watch?v=QNrQCT9N6rQ>
<https://www.youtube.com/watch?v=yHEiYQ72Us8>
- REALIZA UN POLIGONO ESTRELLADO
<https://www.youtube.com/watch?v=stV2sZxwg8Y>
- REALIZAR UN OVALO APARTIR DE SU EJE MAYOR.
<https://www.youtube.com/watch?v=Fb5kC0w9XcU>
- REALIZAR OVOIDE APARTIR DE SU EJE MENOR.
<https://www.youtube.com/watch?v=cxbozbG2Egc>
- REALIZAR UN OVOIDE APARTIR DE SU EJE MAYOR
<https://www.youtube.com/watch?v=EHQcPXPuu-0>
- REALIZAR PERPENDICULARES Y PARALELAS
<https://www.youtube.com/watch?v=SI9URgFUgrw>
- COMO UTILIZAR TRASPORTADOR ÁNGULOS.

<https://www.youtube.com/watch?v=GqWn9NpC-4c>

- CONSTRUCCIÓN ÁNGULOS CON EL COMPÁS

<https://www.youtube.com/watch?v=mMV6mKsnZlQ>

https://www.youtube.com/watch?v=ymYKIG_mzRg

- DIVISIÓN DE UN SEGMENTO POR TALES

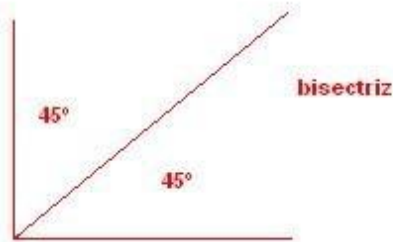
- <https://www.youtube.com/watch?v=dqWRtHWl0-c>

- **ÁNGULO $67^{\circ} 30'$**

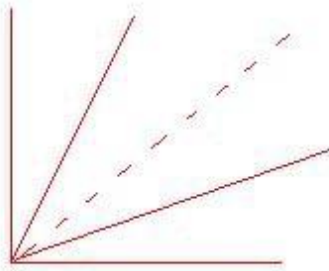
1



2

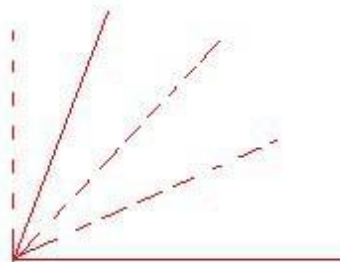


3



bisectriz de la bisectriz

4



lo que no esta punteado forma un angulo de $67^{\circ} 30'$